



Tutora: Griselda Aguirre F.

Profesor: Manuel Pérez V.

Fecha: 15-05-2020

CIRCUNFERENCIA

1. Reducir la ecuación dada a la forma ordinaria y determinar si representa o no una circunferencia. En caso afirmativo hallar su centro y radio:

a) $2x^2 + 2y^2 - 6x + 10y + 7 = 0$

b) $4x^2 + 4y^2 + 28x - 8y + 53 = 0$

2. Determinar la ecuación de la circunferencia sabiendo que:

a) Centro $(-1,3)$ y pasa por $(4,1)$

b) Pasa por $(0,4)$, $(1,2)$ y $(3,2)$

- c) Es circunferencia al triángulo cuyos lados están sobre:

$$L_1 : 3x + 2y = 13$$

$$L_2 : x - 2y + 1 = 0$$

$$L_3 : x + 2y = 3$$

- d) Pasa por $A(-3,3)$ y $B(1,4)$ y su centro está sobre la recta $3x - 2y - 23 = 0$

PARÁBOLA

3. Determinar las coordenadas del vértice y foco, las ecuaciones de la directriz, eje focal y la longitud del lado recto de las siguientes parábolas:

a) $4y^2 - 48x - 20y = 71$

b) $9x^2 + 24x + 72y + 16 = 0$

c) $4x^2 + 48y + 12x = 159$

4. Sean $C_1 : x^2 + y^2 + 10x - 8y + 37 = 0$ y $C_2 : x^2 + y^2 + 4x - 8y + 11 = 0$. Determine la ecuación de la parábola, cuyo vértice con el centro de C_2 y cuyo foco coincide con el centro de C_1 . Además, determinar la ecuación del eje focal, la ecuación de la directriz y los extremos del lado recto de la parábola.

1) a) $2x^2 + 2y^2 - 6x + 10y + 7 = 0 \quad / 2$

$$x^2 + y^2 - 3x + 5y + \frac{7}{2} = 0$$

$$(x^2 - 3x + \frac{9}{4}) + (y^2 + 5y + \frac{25}{4}) = -\frac{7}{2} + \frac{9}{4} + \frac{25}{4}$$

$$(x - \frac{3}{2})^2 + (y + \frac{5}{2})^2 = \frac{-14 + 9 + 25}{4}$$

$$(x - \frac{3}{2})^2 + (y + \frac{5}{2})^2 = \frac{20}{4}$$

$$(x - \frac{3}{2})^2 + (y + \frac{5}{2})^2 = 5 \Rightarrow r^2 = 5$$

∴ Centro $(\frac{3}{2}, -\frac{5}{2})$ radio = $\sqrt{5}$

Ejerc. Tutoría 1
1. a) y

b) $4x^2 + 4y^2 + 28x - 8y + 53 = 0 \quad / 4$

$$x^2 + y^2 + 7x - 2y + \frac{53}{4} = 0$$

$$(x^2 + 7x + \frac{49}{4}) + (y^2 - 2y + 1) = -\frac{53}{4} + \frac{49}{4} + 1$$

$$(x + \frac{7}{2})^2 + (y - 1)^2 = \frac{-53 + 49 + 4}{4}$$

$$(x + \frac{7}{2})^2 + (y - 1)^2 = 0 \Rightarrow r^2 = 0$$

∴ No representa una circunferencia, es un pto (h, k)

Guía 1 "Cálculo 1"

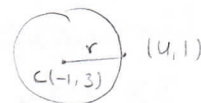
A) Circunferencia.

1- Determinar la ecc. de la circunf. sabiendo que:

Tutoría No 1
Ej. 2. a, b

a) $C(-1, 3)$ y pasa por $(4, 1)$.

i) ecc. ordinaria: $(x-h)^2 + (y-k)^2 = r^2$
 $(x+1)^2 + (y-3)^2 = r^2$



ii) como la \odot pasa por el Pto $(4, 1)$, hay una distancia que sera el radio, aplicando la formula de distancia entre dos ptos

$$d(C, Pto) = \sqrt{(-1-4)^2 + (3-1)^2}$$

$$d(C, Pto) = \text{radio} = \sqrt{29}$$

iii) ecc. ordinaria.

$$(x+1)^2 + (y-3)^2 = 29 \quad \#$$

b) Pasa por $(0, 4)$, $(1, 2)$ y $(3, 2)$.

i) ECC. General \odot : $C: x^2 + y^2 + Dx + Ey + F = 0$

ii) los 3 ptos pasan por la \odot , lo cual se hara un sist. de ecc. reempl cada Pto

como $(0, 4) \in C$: $16 + 4E + F = 0 \rightarrow$ i) $4E + F = -16$

como $(1, 2) \in C$: $1 + 4 + D + 2E + F = 0 \rightarrow$ ii) $D + 2E + F = -5$

como $(3, 2) \in C$: $9 + 4 + 3D + 2E + F = 0 \rightarrow$ iii) $3D + 2E + F = -13$

iii) juntamos ii y iii)

$$\begin{array}{l} D + 2E + F = -5 \\ 3D + 2E + F = -13 \end{array} \quad \left| \begin{array}{l} - \\ + \end{array} \right. \quad \rightarrow \quad \begin{array}{l} 2D = -8 \\ \boxed{D = -4} \end{array}$$

iv) reempl "D" en las ecc:

i) $4E + F = -16$

ii) $2E + F = -1$

iii) $2E + F = -1 \rightarrow E = \frac{-1-F}{2}$

ii) en i) $4\left(\frac{-1-F}{2}\right) + F = -16$
 $-2 - 2F + F = -16$
 $-F = -14$
 $\boxed{F = 14}$

De iii) $E = \frac{-1-14}{2}$

v) reemplaz. D, E y F en la ecc. general

$$x^2 + y^2 - 4x - \frac{15}{2}y + 14 = 0$$

$$(x^2 - 4x + 4) + (y^2 - \frac{15}{2}y + \frac{225}{16}) = -14 + 4 + \frac{225}{16}$$

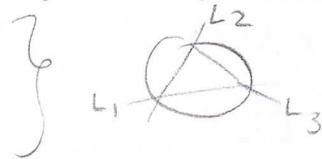
$$(x-2)^2 + (y - \frac{15}{4})^2 = \frac{65}{16} \quad \text{ecc. ordinaria.}$$

c) La circunscrita al triangulo cuyos lados estan sobre :

$$L_1 : 3x + 2y = 13$$

$$L_2 : x - 2y + 1 = 0$$

$$L_3 : x + 2y = 3$$



i) sist. ecc. con las rectas, para encontrar los ptos de intersecc

$$L_1 : 3x + 2y = 13$$

$$L_2 : x - 2y = -1 \quad \rightarrow \quad 3 - 2y = -1$$

$$4x = 12$$

$$x = 3$$

$$-2y = -4$$

$$y = 2$$

∴ Pto entre L_1 y L_2 es (3, 2)

$$L_2 : x - 2y + 1 = 0$$

$$L_3 : x + 2y = 3 \quad \rightarrow \quad 1 + 2y = 3$$

$$2x = 2$$

$$x = 1$$

$$2y = 2$$

$$y = 1$$

∴ Pto entre L_2 y L_3 es (1, 1)

$$L_1 : 3x + 2y = 13 \quad (-1)$$

$$L_3 : x + 2y = 3 \quad \rightarrow \quad 5 + 2y = 3$$

$$-2x = -10$$

$$x = 5$$

$$2y = 3 - 5$$

$$y = -1$$

∴ Pto entre L_1 y L_3 es (5, -1)

ii) los ptos pertenecen a la circunf. : $C : x^2 + y^2 + Dx + Ey + F$

$$\text{como } (3, 2) \in C \quad 9 + 4 + 3D + 2E + F = 0 \quad \rightarrow 1) 3D + 2E + F = -13$$

$$\text{como } (1, 1) \in C \quad 1 + 1 + D + E + F = 0 \quad \rightarrow 2) D + E + F = -2$$

$$\text{como } (5, -1) \in C \quad 25 + 1 + 5D - E + F = 0 \quad \rightarrow 3) 5D - E + F = -26$$

2) Sist. ecc.

$$1) \text{ y } 2) : \begin{array}{l} 3D + 2E + F = -13 \\ D + E + F = -2 \end{array} \quad (-1)$$

$$2D + E = -11 \quad \textcircled{A}$$

$$\textcircled{A} \text{ y } \textcircled{B} : \begin{array}{l} 2D + E = -11 \\ 4D - 2E = -24 \end{array} \quad /2$$

$$8D = -46$$

$$\boxed{D = -\frac{23}{4}}$$

$$2) \quad D + E + F = -2$$

$$F = -2 + \frac{23}{4} - \frac{1}{2}$$

$$\boxed{F = \frac{13}{4}}$$

$$2) \text{ y } 3) : \begin{array}{l} D + E + F = -2 \\ 5D - E + F = -26 \end{array} \quad (-1)$$

$$4D - 2E = -24 \quad \textcircled{B}$$

$$\rightarrow -2 \cdot \frac{23}{4} + E = -11$$

$$E = -11 + \frac{46}{4}$$

$$\boxed{E = \frac{1}{2}}$$

$$\therefore D = -\frac{23}{4}, E = \frac{1}{2} \text{ y } F = \frac{13}{4}$$

\Rightarrow Ecc. General

$$C : x^2 + y^2 - \frac{23}{4}D + \frac{1}{2}E + \frac{13}{4} = 0$$

$$C : 4x^2 + 4y^2 - 23D + 2E + 13 = 0$$

Matris 2. d)

D) \otimes pase por $A(-3,3)$ y $B(1,4)$ y su centro esta sobre la recta $3x - 2y - 23 = 0$.

i) A y B son pto de la curva, lo cual tienen el mismo radio, la distancia del $C(h,k)$ al A es igual a la distancia $C(h,k)$ al B .
centro = $C(h,k)$

$$d(A, \text{centro}) = d(B, \text{centro})$$

$$\sqrt{(-3-h)^2 + (3-k)^2} = \sqrt{(1-h)^2 + (4-k)^2} \quad |()^2$$

$$9 + h^2 + 6h + 9 + k^2 - 6k = 1 + h^2 - 2h + 16 + k^2 - 8k$$

$$| 8h + 2k = -1 | \quad i$$

ii) el centro esta sobre la recta, lo cual reemplazamos "x" y "y" por "h" y "k"

$$3h - 2k - 23 = 0 \quad / \quad ii$$

$$8h + 2k = -1 \quad / \quad i \quad \} \text{ sis. ecc}$$

$$11h = 22$$

$$| h = 2$$

$$; \text{ de } i) \quad 8 \cdot 2 + 2k = -1$$

$$k = -\frac{17}{2}$$

$$\} \quad C\left(2, -\frac{17}{2}\right)$$

i) Calcularmos la distancia del pts A al centro

$$\begin{aligned}d(A, \text{centro}) &= \sqrt{(-3-2)^2 + \left(3 + \frac{17}{2}\right)^2} \\ &= \sqrt{25 + \frac{529}{4}} = \sqrt{\frac{629}{4}} \\ r &= \sqrt{\frac{629}{4}} \Rightarrow r^2 = \frac{629}{4}\end{aligned}$$

ii) la ecc. ordinaria:

$$C: (x-2)^2 + \left(y + \frac{17}{2}\right)^2 = \frac{629}{4}$$

2) a) $4y^2 - 48x - 20y = 71 / 4 \cdot$

$y^2 - 12x - 5y = \frac{71}{4}$ $\frac{9 \cdot 6}{4} = 24$

$(y^2 - 5y + \frac{25}{4}) = 12x + \frac{71}{4} + \frac{25}{4}$

$(y - \frac{5}{2})^2 = 12(x + 2)$

ola
a, b y c

LLR: $4|p| = 12$

$|p| = 3$

$p = 3 = 3 > 0, x > 0 \Rightarrow$ la parábola se abre a la derecha
 \Rightarrow eje focal // eje x

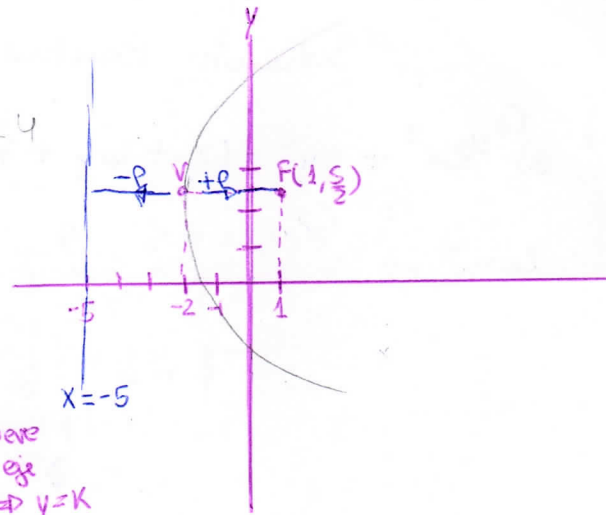
Verhce Parábola: $v(-2, \frac{5}{2})$

$5:2 = 2,5$

Foco: $F(h+p, k) \Rightarrow F(-2+3, \frac{5}{2}) \Rightarrow F(1, \frac{5}{2})$

Directriz: $x = h-p \Rightarrow x = -2-3 \Rightarrow x = -5$

La línea recta \perp al eje focal, a una distancia p del verhce



b) $9x^2 + 24x + 72y + 16 = 0 / 9 \cdot$

$x^2 + \frac{24}{9}x + \frac{72}{9}y = -\frac{16}{9}$

$(x^2 + \frac{8}{3}x + \frac{64}{36}) \cdot 9 = -8y - \frac{16}{9} + \frac{64}{36}$

$(x + \frac{4}{3})^2 = -8y$

LLR: $4|p| = 8$

$|p| = 2$

$p = 2 \Rightarrow$ parábola se abre hacia Abajo
eje focal // eje y

Verhce parábola: $v(-\frac{4}{3}, 0)$

$4:3 \approx 1,33$

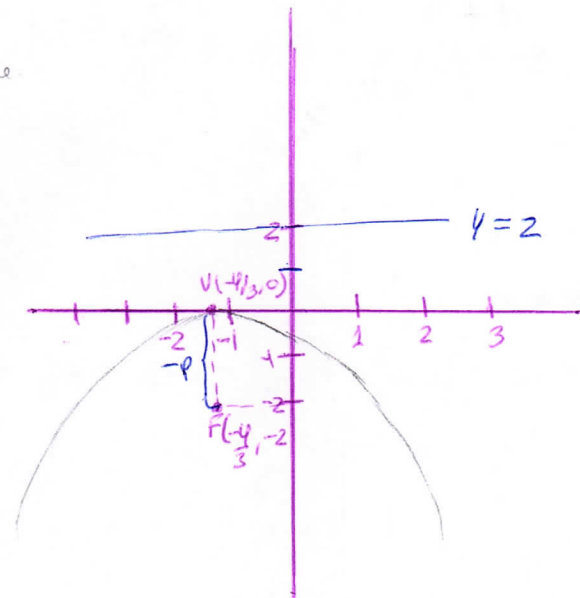
Foco: $F(h, k-p) \Rightarrow F(-\frac{4}{3}, 0-2) \Rightarrow F(-\frac{4}{3}, -2)$

Directriz: $y = k+p$

$(h, y+p) \rightarrow (-\frac{4}{3}, 2)$

$y = 0+2$

$y = 2$



$$y = 13/2$$

$$c) \quad 4x^2 + 48y + 12x = 159 \quad / 4 \cdot$$

$$x^2 + 12y + 3x = \frac{159}{4}$$

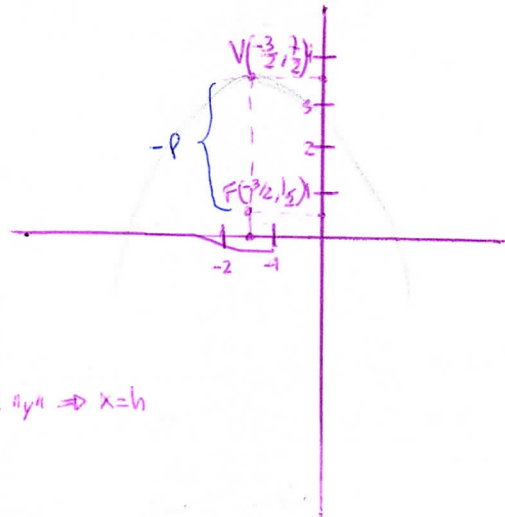
$$(x^2 + 3x + \frac{9}{4}) = -12y + \frac{159}{4} + \frac{9}{4}$$

$$(x + \frac{3}{2})^2 = -12y + 42$$

$$(x + \frac{3}{2})^2 = -12(y - \frac{7}{2})$$

$$\text{Vertex: } V(-\frac{3}{2}, +\frac{7}{2})$$

↳ - ; parábola " " Se abre en el eje "y" $\Rightarrow x=h$
3:2 \approx 1,5 7:2 \approx 3,5



$$\text{LLR: } 4|p| = 12$$

$$|p| = 3$$

\rightarrow parábola se abre hacia abajo
eje Focal // eje y

$$\text{Focus: } F(h, k-p) \rightarrow F(-\frac{3}{2}, \frac{7}{2} - 3) \rightarrow F(-\frac{3}{2}, \frac{1}{2})$$

$$\text{Directrix: } y = k+p$$

$$y = \frac{7}{2} + 3$$

$$y = \frac{13}{2}$$

$$C_1: x^2 + y^2 + 10x - 8y + 37 = 0$$

$$4) \quad (x^2 + 10x + 25) + (y^2 - 8y + 16) = -37 + 25 + 16$$

$$(x+5)^2 + (y-4)^2 = 4$$

Circunferencia $C_1(-5, 4) \quad r^2 = 2^2$

$$C_2: x^2 + y^2 + 4x - 8y + 11 = 0$$

$$(x^2 + 4x + 4) + (y^2 - 8y + 16) = -11 + 4 + 16 + 4$$

$$(x+2)^2 + (y-4)^2 = 3^2$$

Circunferencia $C_2(-2, 4) \quad r = 3$

Se dice que el vertice de la parábola es el C_2 y Foco en C_1

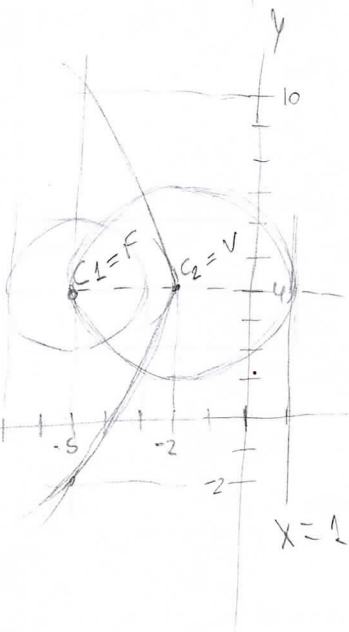
$$\therefore F(-5, 4); V(-2, 4)$$

$$d_{F,V} = P = \sqrt{(-5 - (-2))^2 + (4 - 4)^2}$$

$$= \sqrt{3^2}$$

$$P = 3$$

Ejerc. 4 Par



eye Focal // eye X

Como el Foco se encuentra en el 1º cuadrante y el vertice esta mas abajo del Foco \Rightarrow la parábola se abre hacia la izquierda

Directriz : $x = h + p$

$$x = -2 + 3$$

$$x = 1 \rightarrow \text{Direct. // eye focal}$$

eye Focal : $y = 4$

extremos del LLR : $(-5, 4 - 2p) = (-5, 4 - 2 \cdot 3) = (-5, -2)$

$(-5, 4 + 2p) = (-5, 4 + 6) = (-5, 10)$

Ecc Parábola : $(y+2)^2 = -4 \cdot 3 (x-4)$